

МИНИСТЕРСТВО НА ОБРАЗОВАНИЕТО И НАУКАТА

№ в клас _____

име, фамилия _____

М Ж

пол _____

Б Т Р Д

(език, на който най-често се говори в семейството)

ТЕСТ ПО ГЕОГРАФИЯ И ИКОНОМИКА за V клас

1. Какво изучава науката география?

- а) планетите и космическото пространство
- б) взаимодействието между човека и природата
- в) историята на цивилизациите
- г) зависимостта на живота на хората от планетите

2. Кой е направил първото околосветско пътешествие?

- а) Джеймс Кук
- б) Фернандо Магелан
- в) Христофор Колумб
- г) Вашку да Гама

3. Кое е грешното твърдение за меридианите на географската карта?

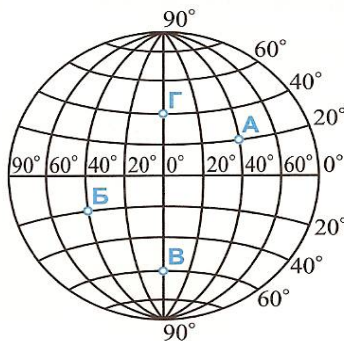
- а) свързват Северния с Южния полюс
- б) имат различна дължина
- в) служат за определяне на географската дължина
- г) имат общо начало и общ край

4. Ако мащабът на географска карта е 1:50 000, каква е дължината на един сантиметър от картата в действителност?

- а) 500 м
- б) 500 км
- в) 50 м
- г) 50 км

5. С помощта на градусната мрежа определете географските координати на точка Б :

- а) 20 с.ш. и 40 з.д.
- б) 20 ю.ш. и 40 з.д.
- в) 20 ю.ш. и 40 и.д.
- г) 20 с.ш. и 40 и.д.



6. Защо на Екватора денят и нощта са с еднаква продължителност?

- а) защото слънчевите лъчи падат почти отвесно
- б) под влияние на Луната
- в) защото Земята обикаля около Слънцето
- г) защото Земята се върти около оста си

7. Пролетта в Южното полукълбо настъпва на:

- а) 21 март
- б) 22 юни
- в) 23 септември
- г) 22 декември

8. Вътрешният строеж на Земята е изграден от три слоя:

- а) земна кора, земна мантия и ядро
- б) литосфера, земна кора и земна мантия
- в) земна мантия, външно и вътрешно ядро
- г) почви, земна кора и ядро

9. Седиментните (утаечните) скали се образуват при:

- а) застиване на магмата в земната кора
- б) висока температура и голямо налягане във водните басейни
- в) утаяване на разрушен материал от други скали във водните басейни
- г) застиване на лавата върху земната повърхност

10. Океаните са:

- а) големи участъци от земната кора на сушата
- б) огромни, вдлъбнати части от земната кора, заети с вода
- в) по-малки части от сушата, заобиколени с вода
- г) част от сушата, обградена от три страни с вода

11. Релефът е:

- а) съвкупност от всички неравности на земната повърхност
- б) резултат от дейността на външните земни сили
- в) твърдата обвивка на Земята
- г) слой, който притежава свойството плодородие

12. Вдлъбната форма на релефа, разположена под морското ниво е:

- а) депресия
- б) котловина
- в) долина
- г) море

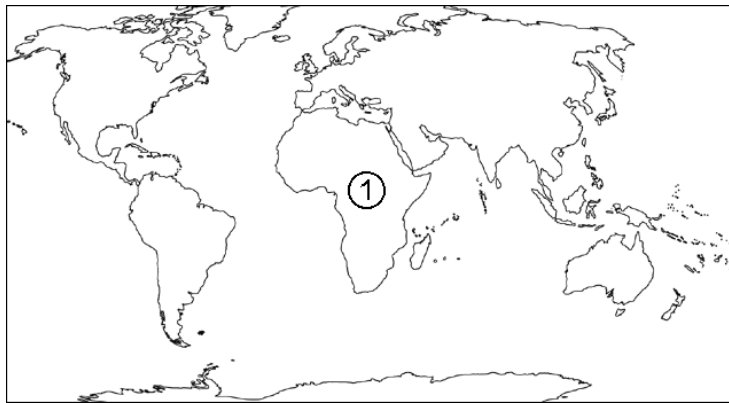
13. Атмосферното налягане е най-високо в:

- а) равнините
- б) платата
- в) планините
- г) хълмовете

14. Води на сушата НЕ са:

- а) езерата б) блатата в) моретата г) ледниците

15. Кой континент е означен с цифрата 1 на картосхемата?



- а) Австралия б) Северна Америка в) Южна Америка г) Африка

16. Относителната височина на връх Мусала (2925 м) спрямо връх Мальовица (2729 м) е:

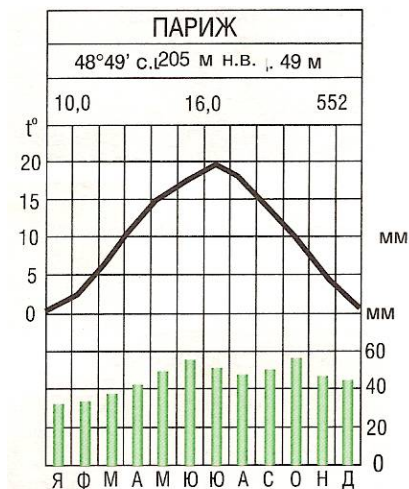
- а) 2925 м б) 2729 м в) 196 м г) 5654 м

17. Определете вида на представеното графично изображение:

- а) хидрограма
б) климатограма
в) таблица
г) диаграма

18. Най-много ежедневни валежи падат в района на:

- а) тропиците в) планините
б) Екватора г) полюсите



19. Почвите се изменят в зависимост от:

- а) географската дължина в) географското положение на океаните
б) посоката на вятъра г) географската ширина и надморската височина

20. В полярните ширини типичен представител на животинския свят е:

- а) сърната б) бялата мечка в) кафявата мечка г) сивият вълк

21. За коя природна зона се отнася характеристиката: “Равнинен или низинен релеф. Климатът е горещ и влажен, а почвите са червеноземни – латеритни. Растителността е разнообразна, гъста, на няколко етажа във височина”?

- а) зона на широколистните смесени гори
б) зона на екваториалните гори
в) зона на иглолистните гори
г) зона на полярните пустини

22. Невъзобновими ресурси са:

- а) почвите
б) вътрешната енергия на Земята
в) енергията на Слънцето
г) полезните изкопаеми

23. Основните човешки раси на Земята са:

- а) монголоидна, негроидна, ескимоси
б) европейдна, индианци, монголоидна
в) европейдна, монголоидна, негроидна
г) негроидна, индийци, монголоидна

24. Кой континент е най-рядко населен?

- а) Африка б) Европа в) Австралия г) Южна Америка

25. На политическата карта са изобразени:

- а) стопанските отрасли
б) природните ресурси
в) границите на държавите, столиците им, по-важните градове и най-важните пътища
г) човешките раси

МИНИСТЕРСТВО НА ОБРАЗОВАНИЕТО И НАУКАТА

19 май 2008 г.

ТЕСТ ПО ГЕОГРАФИЯ И ИКОНОМИКА ЗА V КЛАС

Ключ с верните отговори

Всеки верен отговор се оценява с 1 точка.

Въпрос №	Верен отговор
1.	б
2.	б
3.	б
4.	а
5.	б
6.	а
7.	в
8.	а
9.	в
10.	б
11.	а
12.	а
13.	а
14.	в
15.	г
16.	в
17.	б
18.	б
19.	г
20.	б
21.	б
22.	г
23.	в
24.	в
25.	в