

59. Национална олимпиада по математика

Областен кръг, 17-18.04.2010 г.

Условия, кратки решения и критерии за оценяване

Задача 9.1. Да се намерят всички стойности на реалния параметър a , за които корените x_1 и x_2 на уравнението $x^2 + (\sqrt{a+1}-a)x - 1 = 0$ са реални и удовлетворяват равенството

$$x_1^2 + x_2^2 + a^2 = 2a(x_1 + x_2) + 2 + \sqrt{a^3 + a^2 - 14a + 25}.$$

Решение. Уравнението има смисъл и корените му са реални за всяко $a \geq -1$. Да означим за краткост $g(a) = a^3 + a^2 - 14a + 25$. Даденото условие може да се запише във вида

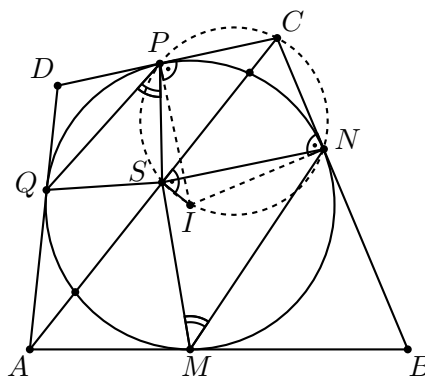
$$(x_1 + x_2 - a)^2 = \sqrt{g(a)},$$

което е еквивалентно на уравнението $a + 1 = \sqrt{g(a)}$. След повдигане на квадрат получаваме $a^3 - 16a + 24 = 0 \iff (a - 2)(a^2 + 2a - 12) = 0$ с корени $a_1 = 2$, $a_2 = -1 + \sqrt{13}$ и $a_3 = -1 - \sqrt{13}$. Тъй като $a_3 < -1 < a_1 < a_2$, $g(a_1) = (a_1 + 1)^2 \geq 0$ и $g(a_2) = (a_2 + 1)^2 \geq 0$, то $a_1 = 2$ и $a_2 = -1 + \sqrt{13}$ са единствените решения на задачата.

Инструкции за оценяване. **1 т.** за определяне на $a \geq -1$, като достатъчно условие за реални корени; **2 т.** за достигане до уравнението $a + 1 = \sqrt{a^3 + a^2 - 14a + 25}$ (директно с формули на Виет или както по-горе); **2 т.** за получаване и решаване на уравнението $(a - 2)(a^2 + 2a - 12) = 0$; **2 т.** за проверка на трите корена и достигане до двете решения.

Задача 9.2. В даден четириъгълник $ABCD$ може да се впише окръжност k , която се допира до страните AB , BC , CD и DA в точките M , N , P и Q съответно. Нека S е средата на хордата, получена от пресичането на диагонала AC с окръжността k . Да се докаже, че е изпълнено равенството $SM \cdot SQ = SN \cdot SP$.

Решение. Нека I е центъра на окръжността k и да въведем стандартни означения за ъглите на четириъгълника с α, β, γ и δ . Ще покажем, че $\triangle MNS \sim \triangle PQS$ откъдето следва, че $\frac{SM}{SP} = \frac{SN}{SQ}$, т.е. $SM \cdot SQ = SN \cdot SP$. Тъй като S е среда на хорда в k , лежаща на правата AC , то $\sphericalangle ISC = 90^\circ$. От друга страна $\sphericalangle IPC = \sphericalangle INC = 90^\circ$ и следователно точките I, N, C, P и S лежат на окръжност с диаметър CI . Тогава $\sphericalangle NSC = \sphericalangle CSP = 90^\circ - \frac{\gamma}{2}$ и аналогично $\sphericalangle MSA = \sphericalangle QSA = 90^\circ - \frac{\alpha}{2}$.



Следователно $\sphericalangle MSN = \sphericalangle PSQ = \frac{\alpha + \gamma}{2}$. Освен това

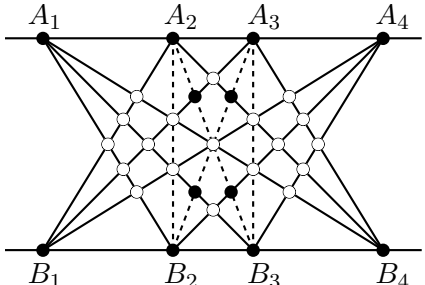
$$\begin{aligned} \sphericalangle SPQ &= \sphericalangle SPD - \sphericalangle QPD = \sphericalangle SNC - \left(90^\circ - \frac{\delta}{2}\right) = (180^\circ - \sphericalangle SNB) - \left(90^\circ - \frac{\delta}{2}\right) = \\ &= (180^\circ - \sphericalangle SNM) - \sphericalangle MNB - \left(90^\circ - \frac{\delta}{2}\right) = \\ &= \sphericalangle NMS + \sphericalangle MSN - \left(90^\circ - \frac{\beta}{2}\right) - \left(90^\circ - \frac{\delta}{2}\right) = \\ &= \sphericalangle NMS + \frac{\alpha + \gamma}{2} - \left(90^\circ - \frac{\beta}{2}\right) - \left(90^\circ - \frac{\delta}{2}\right) = \sphericalangle NMS \end{aligned}$$

и с това доказателството е завършено.

Инструкции за оценяване. **1 т.** за свеждане на задачата до $\triangle MNS \sim \triangle PQS$; **1 т.** за построяване на центъра I и доказване, че $IS \perp AC$; **1 т.** за доказване, че точките I, N, C, P и S лежат на една окръжност; **2 т.** за $\sphericalangle MSN = \sphericalangle PSQ$; **2 т.** за $\sphericalangle SPQ = \sphericalangle NMS$.

Задача 9.3. Върху успоредните прави a и b са взети съответно точките A_1, A_2, A_3, A_4 и B_1, B_2, B_3, B_4 , които са две по две различни. Да се намери минималният възможен брой различни точки, получени при пресичането на отсечките $A_i B_j, i = 1, 2, 3, 4; j = 1, 2, 3, 4$. (Включително самите точки A_1, A_2, A_3, A_4 и B_1, B_2, B_3, B_4 .)

Решение. Нека точките върху правата a са разположени в реда A_1, A_2, A_3, A_4 отляво надясно и аналогично за точките B_1, B_2, B_3, B_4 върху b . Тогава 10-те отсечки $A_1 B_i, i = 2, 3, 4, A_2 B_j, j = 1, 4, A_3 B_k, k = 1, 4$ и $A_4 B_m, m = 1, 2, 3$, определят 19 различни пресечни точки (по 3 върху отсечките $A_1 B_2$ и $A_3 B_4$, по 4 върху $A_1 B_3$ и $A_2 B_4$ и 5 върху $A_1 B_4$ – означени, като „празни“ точки на чертежа).



Отсечките, които все още не сме разгледали са $A_2 B_2, A_2 B_3, A_3 B_2$ и $A_3 B_3$. Остава да съобразим, че върху всяка една от отсечките $A_2 B_3$ и $A_3 B_2$ съществуват по още поне 2 нови пресечни точки, различни по между си и различни от горните 19. Като

добавим и дадените осем точки върху правите a и b достигаме до поне $19 + 2 + 2 + 8 = 31$ пресечни точки.

Ще покажем, че може да се построи желана конфигурация с точно 31 пресечни точки. Нека за целта разположим точките, така че отсечките $A_i B_i$ да са перпендикулярни на правите a и b , $A_1 A_2 = A_3 A_4 = x$ и $A_2 A_3 = y$. Тогава $B_1 B_2 = B_3 B_4 = x$ и $B_2 B_3 = y$. Ще търсим отношението $x : y$, така че правата $A_2 B_2$ да минава през пресечната точка P на отсечките $A_1 B_4$ и $A_3 B_1$. За целта използваме двойките подобни триъгълници $\triangle A_1 A_2 P$ и $\triangle B_2 B_4 P$, както и триъгълниците $\triangle A_2 A_3 P$ и $\triangle B_1 B_2 P$. След съответните пресмятания достигаме до равенството $x^2 - xy - y^2 = 0$, т.е. $\frac{x}{y} = \frac{1 + \sqrt{5}}{2}$

и $A_1 A_2 = A_3 A_4 = \frac{1 + \sqrt{5}}{2} A_2 A_3$. От съображение за симетрия, в този случай получаваме, че отсечката $A_2 B_2$ минава през пресечната точка на отсечките $A_1 B_3$ и $B_1 A_4$, т.е. отсечката $A_2 B_2$ не носи нови пресечни точки различни от горните 19. Аналогично и отсечката $A_3 B_3$ няма да носи нови точки и вече лесно се вижда, че останалите две отсечки $A_2 B_3$ и $A_3 B_2$ ще донесат точно 4 нови точки, което ни води и до търсеният брой.

Инструкции за оценяване. **4 т.** за минималната оценка (2 т. са за намиране на 19 вътрешни пресечни точки и 2 т. за останалите 4 точки); **3 т.** за конструкцията.

Задача 9.4. Да се реши системата

$$\begin{cases} x + ay^2 + a^2 z^2 = a^2 \\ x + by^2 + b^2 z^2 = b^2 \\ x + cy^2 + c^2 z^2 = c^2, \end{cases}$$

където a, b и c са реални параметри ($a \neq b, b \neq c, c \neq a$).

Решение. Нека един от параметрите, например a , е равен на 0. Тогава $x = 0$ от първото уравнение, а от другите две уравнения получаваме системата

$$\begin{cases} y^2 + bz^2 = b \\ y^2 + cz^2 = c, \end{cases}$$

откъдето лесно намираме $y^2 = 0$ и $z^2 = 1$, т.е. $y = 0$ и $z = \pm 1$.

Нека сега $abc \neq 0$. Тогава след изразяване на $z^2 - 1$ от трите уравнения получаваме системата $\frac{x + ay^2}{a^2} = \frac{x + by^2}{b^2} = \frac{x + cy^2}{c^2}$. Следователно

$$\begin{cases} x(b^2 - a^2) + ab(b - a)y^2 = 0 \\ x(c^2 - a^2) + ac(c - a)y^2 = 0 \end{cases} \iff \begin{cases} x(a + b) + aby^2 = 0 \\ x(a + c) + acy^2 = 0 \end{cases}.$$

В последната система умножаваме първото уравнение с c , второто с b и ги изваждаме, за да получим $ax(c - b) = 0$, откъдето $x = 0$. Тогава $y = 0$ и $z^2 = 1$, т.е. отново достигаме до решенията $(x, y, z) = (0, 0, \pm 1)$.

Инструкции за оценяване. **2 т.** за случая $abc = 0$; **5 т.** за случая $abc \neq 0$ (3 т. за достигане до система с две уравнения и две неизвестни и 2 т. за решаването на

тази система). При други решение (например елиминация на едно от неизвестните) без разглеждане на $abc = 0 - 4$ т. и 3 т. за довършване.

Задача 9.5. Даден е $\triangle ABC$ с ортоцентър H и център на вписаната окръжност I . Окръжност, минаваща през върховете A и B пресича страните CA и CB за втори път в точките P и Q съответно.

а) Ако I лежи на отсечката PQ , да се докаже, че $AP + BQ = PQ$;

б) Ако H лежи на отсечката PQ , да се докаже, че $\frac{AP}{AH} + \frac{BQ}{BH} = \frac{PQ}{CH}$.

Решение. Да въведем стандартните означения за ъглите на $\triangle ABC$ с α , β и γ .

а) Нека I лежи на отсечката PQ и описаната около $\triangle ABI$ окръжност k пресича за втори път правата PQ в точка D (възможно е $D \equiv I$, ако k се допира до PQ). Без ограничение на общостта нека $D \in IP \rightarrow$ и тогава

$$\sphericalangle ADI = 180^\circ - \sphericalangle ABI = 180^\circ - \frac{\beta}{2} > 180^\circ - \beta = \sphericalangle APQ,$$

т.е. D е вътрешна точка за отсечката IP .

От $\sphericalangle ADP = \sphericalangle ABI = \frac{\beta}{2} = \frac{1}{2} \sphericalangle DPC$ следва, че $\triangle ADP$ е равнобедрен и $AP = PD$. Аналогично $BQ = DQ$ и следователно $AP + BQ = PD + DQ = PQ$.

б) Нека H лежи на отсечката PQ . Тъй като $\sphericalangle BQH = 180^\circ - \alpha = \sphericalangle BHC$, то $\triangle BQH \sim \triangle BHC$ и $\frac{BQ}{BH} = \frac{QH}{CH}$. Аналогично $\triangle APH \sim \triangle AHC$ и $\frac{AP}{AH} = \frac{PH}{CH}$. Като съберем тези две равенства получаваме $\frac{AP}{AH} + \frac{BQ}{BH} = \frac{PQ}{CH}$.

Забележка: Доказаните равенства в а) и б) се оказват достатъчни условия за колинеарност на точките P, Q, I и P, Q, H съответно.

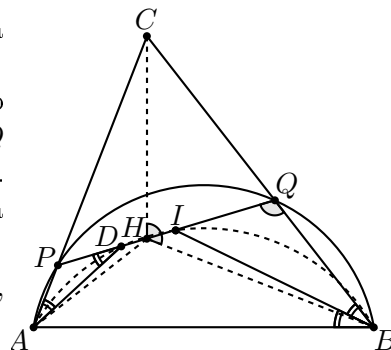
Инструкции за оценяване. а) **1 т.** за построяване на точката D (възможно е да се построи и като $PD = PA$); **1 т.** за доказване, че D е вътрешна за отсечката PQ ; **2 т.** за достигане до равенството $AP + BQ = PQ$; б) **1 т.** за откриване на подобие $\triangle BQH \sim \triangle BHC$; **2 т.** за достигане до равенството $\frac{AP}{AH} + \frac{BQ}{BH} = \frac{PQ}{CH}$.

Задача 9.6. Нека n е естествено число. Да се намери най-малкото естествено число k , за което съществуват естествени числа a_1, a_2, \dots, a_k , такива че

$$7 \cdot 2^n = a_1^2 + a_2^2 + \dots + a_k^2.$$

Решение. Очевидно $k > 1$. Нека $k = 2$. Ако $7 \mid a_1$ и $7 \mid a_2$, то $7 \mid a_1^2 + a_2^2$ и отгук $7^2 \mid 7 \cdot 2^n$, което е невъзможно. Нека $7 \nmid a_1$ и тогава очевидно $7 \nmid a_2$. Сега от $a_1^2 + a_2^2 \equiv 0 \pmod{7}$ или $a_1^2 \equiv -a_2^2 \pmod{7}$ следва $a_1^6 \equiv -a_2^6 \pmod{7}$ и (от теоремата на Ферма) $1 \equiv -1 \pmod{7}$ – противоречие.

Нека $k = 3$. Ако $n > 1$, то $a_1^2 + a_2^2 + a_3^2 \equiv 0 \pmod{4}$, откъдето лесно следва, че a_1, a_2, a_3 са четни числа. Тогава $a_1 = 2b_1, a_2 = 2b_2, a_3 = 2b_3$ ($b_1, b_2, b_3 \in \mathbb{N}$) и $7 \cdot 2^{n-2} =$



$b_1^2 + b_2^2 + b_3^2$. Продължавайки по този начин заключаваме, че $7 \cdot 2^2$ или $7 \cdot 2$ трябва да е сума на три квадрата. Непосредствено се проверява, че това не е изпълнено за $7 \cdot 2^2 = 28$ и следователно не е изпълнено за $7 \cdot 2^n$ при четно n . От друга страна, $7 \cdot 2 = 14 = 3^2 + 2^2 + 1^2$, което ни подсеща при нечетно $n = 2m + 1$ да изберем $a_1 = 3 \cdot 2^m, a_2 = 2 \cdot 2^m, a_3 = 1 \cdot 2^m$ и тогава $a_1^2 + a_2^2 + a_3^2 = 14 \cdot 2^{2m} = 7 \cdot 2^n$.

Нека $n = 2m$ е четно и $k = 4$. Аналогично на горното, тъй като $7 = 2^2 + 1^2 + 1^2 + 1^2$, избираме $a_1 = 2^{m+1}, a_2 = a_3 = a_4 = 2^m$ и получаваме $a_1^2 + a_2^2 + a_3^2 + a_4^2 = 7 \cdot 2^{2m} = 7 \cdot 2^n$.

Окончателно, $k = 3$ за нечетно n и $k = 4$ за четно n .

Инструкции за оценяване. **1 т.** за случая $k = 2$; **2 т.** за случая $k = 3, 2 \mid n$; **2 т.** за случая $k = 3, 2 \nmid n$; **2 т.** за случая $k = 4, 2 \mid n$. (Не се зачита цитирането без доказателство на факти относно представянето на естествените числа като сума на няколко квадрата.)

Задача 10.1 Да се реши уравнението

$$20^{x^2} \cdot 10^x = 2$$

Решение. Записваме уравнението във вида

$$2^{x^2-1} \cdot 10^{x^2+x} = 1,$$

което е еквивалентно с уравнението

$$(2^{x-1} \cdot 10^x)^{x+1} = 1.$$

Имаме две възможности $x + 1 = 0$ или $2^{x-1} \cdot 10^x = 1$. При първата достигаме до решението $x_1 = -1$, а при втората достигаме до уравнението $20^x = 2$, което ни води до решението $x_2 = \log_{20} 2$.

Окончателно получаваме решенията $x_1 = -1$ и $x_2 = \log_{20} 2$.

Инструкции за оценяване: **1 т.** за свеждане до уравнението $2^{x^2-1} \cdot 10^{x^2+x} = 1$; **1 т.** за свеждане до уравнението $(2^{x-1} \cdot 10^x)^{x+1} = 1$; **2 т.** за случая $x + 1 = 0$ и достигане до решението $x_1 = -1$; **1 т.** за случая $2^{x-1} \cdot 10^x = 1$; **1 т.** за достигане до уравнението $20^x = 2$; **1 т.** за достигане до решението $x_2 = \log_{20} 2$;

Задача 10.2. Външнописаната окръжност към страната AB на $\triangle ABC$ се допира до AB в точка D . Ако $\sphericalangle CAB = 2 \sphericalangle CDA$, да се намери стойността на отношението $AD : BD$.

Решение. (Тригонометричен подход) Ще използваме стандартните означения за страните на $\triangle ABC$ и нека $\sphericalangle ADC = \varphi$. От синусова теорема за $\triangle ACD$ получаваме $CD = \frac{b \sin 2\varphi}{\sin \varphi} = 2b \cos \varphi$. Оттук и от косинусова теорема за $\triangle ADC$ имаме

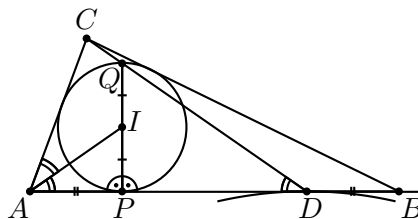
$$4b^2 \cos^2 \varphi = b^2 + (p-b)^2 - 2b(p-b) \cos 2\varphi \iff 2b^2 \cos 2\varphi = -b^2 + (p-b)^2 - 2b(p-b) \cos 2\varphi,$$

откъдето намираме $\cos 2\varphi = \frac{p-2b}{2b}$. От косинусова теорема за $\triangle ABC$ получаваме

$$a^2 = b^2 + c^2 - 2bc \frac{(p-2b)}{2b} \iff a^2 = (b+c)^2 - pc \iff a-b = \frac{c}{2}.$$

Остава да пресметнем $BD = p - a = \frac{b + c - a}{2} = \frac{c}{4}$ и следователно $AD : BD = 3 : 1$.

(Синтетичен подход) Нека вписаната в $\triangle ABC$ окръжност k е с център I и се допира до страната AB в точка P . Ако означим с Q диаметрално противоположната точка на P в k , то добре известен факт е, че точките C, Q и D са колинеарни. (Класическото доказателство е с хомотетия, с център C , която изпраща k във външно вписаната окръжност.)



Тогава $\sphericalangle IAP = \frac{1}{2} \sphericalangle CAB = \sphericalangle CDA$, т.е. правоъгълните триъгълници $\triangle IPA$ и $\triangle QPD$ са подобни и $PD : PA = PQ : PI = 2 : 1$. От друга страна $PA = BD$ и следователно $AD : BD = 3 : 1$.

Инструкции за оценяване: (Тригонометричен подход) **1 т.** за въвеждането на помощен ъгъл $\sphericalangle ADC = \varphi$, **1 т.** за прилагане на синусова теорема за $\triangle ADC$ и намиране $CD = 2b \cos \varphi$; **2 т.** за прилагане на косинусова теорема за $\triangle ADC$ и намиране на $\cos 2\varphi = \frac{p - 2b}{2b}$; **2 т.** за прилагане на косинусова теорема за $\triangle ABC$ и достигане до равенството $a - b = \frac{c}{2}$; **1 т.** за достигане до отговора.

(Синтетичен подход) **1 т.** за построяване на вписаната окръжност; **2 т.** за въвеждане на точката Q и отчитане на факта, че $Q \in CD$; **1 т.** за доказателство на факта, че $Q \in CD$; **1 т.** за $\triangle IPA \sim \triangle QPD$; **2 т.** за достигане до отговора.

Задача 10.3. Виж задача 9.3.

Задача 10.4. Да се намерят всички естествени числа n , такива че за всяко x е изпълнено равенството:

$$(\sin x)^{2n} + (\cos x)^{2n} + n \sin^2 x \cos^2 x = 1.$$

Решение. При $x = \frac{\pi}{4}$ даденото равенство придобива вида $\frac{1}{2^n} + \frac{1}{2^n} + \frac{n}{4} = 1$ и оттук получаваме $1 + (n - 4)2^{n-3} = 0$. Ако $n \geq 4$, това равенство не е изпълнено, понеже $1 + (n - 4)2^{n-3} > 0$. Ако $n \leq 3$, проверката показва, че то е изпълнено само при $n = 2$ и $n = 3$ и ще докажем, че при тези стойности даденото равенство е тъждество.

При $n = 2$ имаме $\sin^4 x + \cos^4 x + 2 \sin^2 x \cos^2 x = (\sin^2 x + \cos^2 x)^2 = 1$, за всяко x .

При $n = 3$ имаме $\sin^6 x + \cos^6 x + 3 \sin^2 x \cos^2 x = (\sin^2 x + \cos^2 x)(\sin^4 x - \sin^2 x \cos^2 x + \cos^4 x) + 3 \sin^2 x \cos^2 x = (\sin^2 x + \cos^2 x)^2 - 3 \sin^2 x \cos^2 x + 3 \sin^2 x \cos^2 x = 1$, за всяко x .

Следователно търсените естествени числа са $n = 2$ и $n = 3$.

Инструкции за оценяване: **2 т.** за достигане до $1 + (n - 4)2^{n-3} = 0$ (или друго равенство от този вид); **2 т.** за показване, че това равенство е изпълнено само при $n = 2$ и $n = 3$; **1 т.** за доказване, че при $n = 2$ даденото равенство е изпълнено за всяко x ; **2 т.** за доказване, че при $n = 3$ даденото равенство е изпълнено за всяко x .

Задача 10.5. Виж задача 9.5.

Задача 10.6. Виж задача 9.6.

Автори на задачите:

Петър Бойваленков – 9.1, 9.4;

Иван Тонов – 9.3(10.3), 10.2;

Стоян Боев – 9.2, 9.5(10.5), 10.1;

Керопе Чакърян – 9.6(10.6), 10.4.